

二年级数学科期中测试卷 (B)

内容包括: 至第三册练习十三

题次	一	二	三	四	五	六	评分
评分							

一、填空。(每空1分,共34分)

- 1、把口诀补充完整并写出两道乘法算式。

三 () 十五

一 () 得六

- 2、笔算加减法时,要把 () 对齐,从 () 算起。

- 3、两个乘数都是4,积是 (),再加上18得 ()。

- 4、数学课本上的4个角都是 () 角。

- 5、比63少18的数是 (),75比36多 ()。

- 6、在 () 里填上“米”或“厘米”



高3 () 宽6 () 高2 () 高126 ()

- 7、按规律填数。

(1) 7、14、21、28、()、()

(2) 86、80、74、68、()、()

- 8、在○里填上“>”“<”或“=”

$3 \times 4 \bigcirc 6 \times 2$

$85 \text{ 厘米} + 15 \text{ 厘米} \bigcirc 100 \text{ 米}$

$19 + 2 \times 6 \bigcirc 6 \times 6$

$1 \text{ 米} - 68 \text{ 厘米} \bigcirc 32 \text{ 厘米}$

- 9、在○里填上“+”“-”或“×”

$6 \bigcirc 2 = 4$

$2 \bigcirc 4 = 1 \bigcirc 7$

$5 \bigcirc 4 = 20$

$38 \bigcirc 22 = 4 \bigcirc 4$

- 10、判一判,填一填。



有 () 个直角



有 () 条线段

() 个锐角

- 二、判断。(对的画“√”,错的画“×”)(10分)

- 1、角的两边越长,角就越大。 ()





- 2、量操场的长时,我们应该用米作单位。 ()

- 3、
- $2 \times 3 = 6$
- 和
- $1 \times 6 = 6$
- ,积相同,但所用的口诀不同。 ()

- 4、最大的两位数和最大的一位数相差89。 ()

- 5、计算
- $2 + 3 \times 2$
- 时,应先计算
- $2 + 3 = 5$
- ,再计算
- $5 \times 2 = 10$
- 。 ()

三、选择。(把正确答案的序号填在()里)(10分)

- 1、一个直角和一个锐角能拼成一个()。
A、锐角 B、直角 C、钝角
- 2、 3×4 改写成加法算式是()。
A、 $3+4$ B、 $3+3+3+3$ C、 $3+4+5$
- 3、一条绳子长 13 米，一支铅笔长 13 厘米，比较一下，()
较长些。
A、绳子 B、铅笔 C、一样长
- 4、下面物体表面有直角的是()。
A、 B、 C、
- 5、() 个  长 1 米。
A、3 B、4 C、5

四、画一画。(6分)

- 1、画一个比直角小的角。
- 2、画一条 4 厘米长的线段。

五、计算。(9+8+6=23 分)


- 1、直接写出得数。


$1 \times 5 =$	$27 + 43 =$	$1 \times 4 + 29 =$
$2 \times 3 =$	$68 - 18 =$	$25 + 10 - 15 =$
$4 \times 6 =$	$40 - 7 =$	$6 \times 6 + 13 =$

2、笔算。

$$93 - 24 = \quad 86 - (59 - 34) = \quad 60 + 31 - 19 =$$

3、看图列式计算。

(1)  ? 个

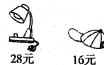
(2) 

六、解决问题。(4+5+8=17 分)


- 1、一共需要多少钱?



- 2、乐乐带了 50 元，买了下面的两样物品，还剩多少钱?



- 3、(1) 芳芳家交电费多少元?



- (2) 亮亮家比芳芳家多交 17 元，亮亮家交电费多少元?